

社 会

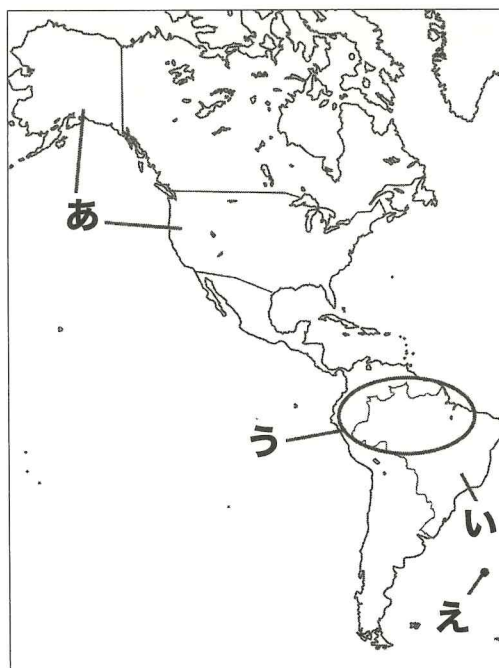
注 意

- 1 問題用紙は監督者の「はじめ」の合図があるまで開いてはいけません。
- 2 問題用紙は表紙を入れて11ページあり、これとは別に解答用紙が1枚あります。
- 3 受検番号は、検査開始後、解答用紙の決められた欄に記入しなさい。
- 4 机の上には、受検票・えんぴつ（シャープペンシルも可）・消しゴム・えんぴつけずり以外の物を置いてはいけません。
- 5 筆記用具の貸し借りはいけません。
- 6 問題を読むとき、声を出してはいけません。
- 7 印刷が悪くて分からないときや、筆記用具を落としたときなどは、黙って手をあげなさい。
- 8 監督者の「やめ」という合図ですぐにやめなさい。

答えの書き方

- 1 答えは、問題の指示に従って、すべて解答用紙に記入しなさい。
- 2 答えはていねいに書きなさい。答えを書き直すときは、きれいに消してから書きなさい。
- 3 計算などには、問題用紙の余白を利用しなさい。

1 以下の地図を見て、(1)～(5)に答えなさい。



(1) 以下の各表は、各農畜産物生産量の国別ランキングである。表中のA、Bに当てはまる国を、地図中あ・いから選び、答えなさい。

	大豆	大豆の量	とうもろこし	とうもろこしの量	牛肉	牛肉の量
1位	B	114,269,392	A	347,047,570	A	12,348,749
2位	A	96,793,180	中国	260,778,900	B	10,200,000
3位	アルゼンチン	55,263,891	B	101,138,617	中国	5,931,375
4位	中国	15,724,000	アルゼンチン	56,860,704	アルゼンチン	3,135,908

※ 数値は2019年のもの 量の単位はトン

(2) 地図中の地域において、最も信者の数が多い宗教は仏教・イスラーム教・キリスト教のどれか答えなさい。また、これらの宗教は世界的に信者がいる宗教だが、こうした宗教を何というか答えなさい。

(3) 範囲うの川は、流域面積で世界最大の川である。川の名前を答えなさい。また、この地域では図Iに示されるような、森を焼き、その灰を肥料にして行う農業が行われてきた。この農法を何というか答えなさい。

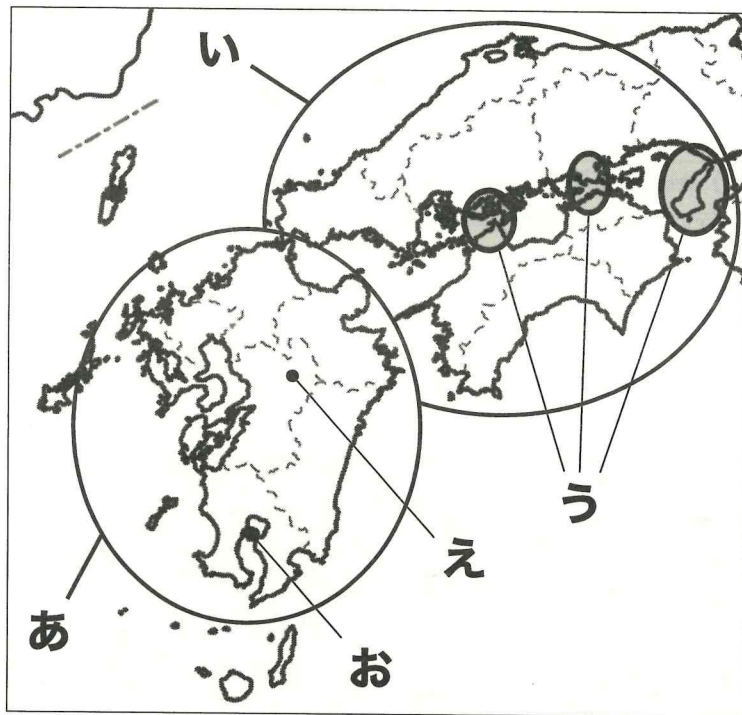


図I

(4) 近年、範囲うの熱帯雨林の破壊が進み、農業や生物多様性が損なわれることが問題となっている。経済の発展と環境保護を両立し、将来の世代の要求も満たすような開発を何というか答えなさい。

(5) 地点えは、緯度・経度で考えた時、弘前市の地球のちょうど裏側にあたる地点である。時差は何時間が答えなさい。

2 以下の地図を見て (1) ~ (5) に答えなさい。

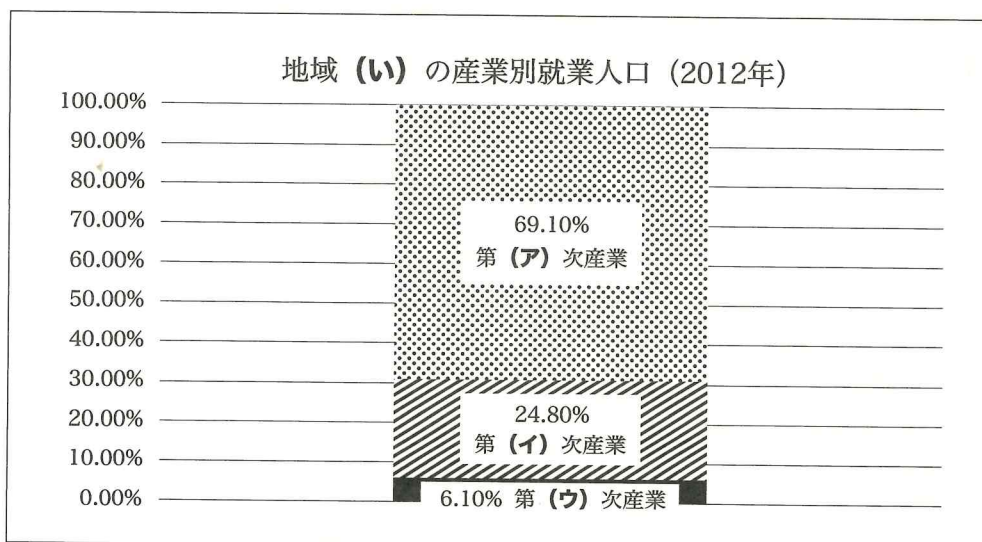


(1) 以下の表は地図に示された地域の面積と人口をまとめたものである。表の **A**、**B** に当てはまる地域を地図中の地域 **あ**・**い** から選び、答えなさい。

地域名	面積	人口
A	4万4471平方km	1469万人
B	5万730平方km	1156万人

※ 面積・人口ともに2013年のもの


(2) 以下のグラフ中の (ア) ~ (ウ) に当てはまる漢数字をそれぞれ答えなさい。



- (3) 地点うでは、本州と四国を結ぶ連絡橋が作られた。これらの連絡橋をまとめて何というか答えなさい。また、これらの連絡橋に関する以下の文章の (a)、(b) に当てはまる語句を答えなさい。

連絡橋の建設によって、四国の人々の通勤や通学、買い物は瀬戸内海を超えることが増え、交流が活発化した。一方で、四国から本州に若者が流出して人口が減り、(a) が問題になったため、(a) が進む市町村では、特産品のブランド化や観光資源を広く宣伝するなど、様々な (b) を行い、地域の活性化を目指している。

- (4) 図Ⅱは、地点え付近の陰影起伏図である。火山活動によってできたこのような地形を何というか答えなさい。



図Ⅱ

※出典：国土地理院ウェブサイトより

- (5) 地点お付近は活火山が多く、水はけの良いシラス台地が広がっている。こうした土地での生産に適さない作物を以下の選択肢から選び、答えなさい。

さつまいも

キャベツ

大根

稲

3

ある授業でコーヒーについて調べ、以下のようにまとめた。(1)～(8)について答えなさい。

資料1：コーヒー発見に関わる伝説として、以下の話が伝わる。9世紀①のエチオピアで、ヤギ飼いの少年カルディが、新しい牧草地でヤギが興奮して飛び跳ねることに気づいた。修道僧に相談したところ、山腹の木に実る赤い実が原因と判った。実をゆでた汁を飲むと寝付けなくなったため、修道院の夜の礼拝で眠気覚ましに利用②されるようになった。

資料2：13世紀③になると豆の焙煎が行われ、香ばしい香りや風味が加わったことで、コーヒーがイスラーム世界で普及していった。「カフワ」といわれたコーヒーは、オスマン帝国からヨーロッパに伝わった。1683年に行われた第二次ウィーン包囲でオスマン軍が敗北し、オスマン軍が放棄した物資にあったコーヒー豆を元手に、ウィーンに初めてコーヒー・ハウスが開かれたといわれる。コーヒーの魅力に気づいたヨーロッパの人々は、中南米や東南アジアで奴隷を利用して大規模なコーヒー生産を行った。④

資料3：出島に出入りしたオランダ人が、日本にコーヒーを持ち込んだ。⑤しかし、コーヒーの風味ははじめ日本人に受け入れられず、普及には長い時間がかかった。明治に入り、欧風の食文化が日本に紹介され、コーヒーも飲まれるようになったが、上流階級の一部に限られていた。大正時代初頭にカフェパウリスタが設立⑥され、安価なコーヒーが提供される中で、大衆の間にコーヒーが普及していった。第二次世界大戦⑦によってコーヒーの輸入量が激減したことで、大豆やユリの根などを調理した代用コーヒーが飲まれることになった。⑧

(1) 下線部①について、9世紀の日本は平安時代前期であった。以下に示した平安時代の出来事1～5を古い順に並べた時、3つ目に当たるものを番号で答えなさい。

- | | |
|----------------------|--------------------------|
| 1. 藤原道長が摂関政治を確立する。 | 2. 桓武天皇が都を平安京に移す。 |
| 3. 白河上皇が院政を行う。 | 4. 征夷大将軍の坂上田村麻呂が蝦夷討伐を行う。 |
| 5. 平清盛が太政大臣として権力を握る。 | |

(2) 下線部②について、日本では寺院での修行における同じ目的で、最澄が中国から茶を持ち込んだといわれる。最澄が伝えた新たな仏教の教えは何か答えなさい。

(3) 下線部③について、以下のア～エの中で13世紀の出来事に当てはまらないものの組み合わせをI～IVから選び、答えなさい。

- ア. 源頼朝が征夷大将軍となり、鎌倉幕府が名実ともに成立する。
- イ. 承久の乱で、後鳥羽上皇が幕府に反乱を起こすが失敗する。
- ウ. 北条泰時が御成敗式目を定め、朝廷とは離れた武士の体制を確立した。
- エ. 後醍醐天皇が足利尊氏とともに鎌倉幕府を滅ぼす。

I ア・ウ	II イ・ウ	III ア・エ	IV イ・エ
-------	--------	---------	--------

(4) 下線部④について、この時ヨーロッパの国々に支配された地域を何というか答えなさい。

(5) 下線部⑤について、他のヨーロッパの人々の日本への立入りが制限される中で、オランダ人の立ち入りが認められたのはなぜか。簡潔に答えなさい。

(6) 下線部⑥について、カフェパウリスタは東京・横浜を中心とした大地震によって大打撃を受けた。この地震を何というか答えなさい。

(7) 下線部⑦について、この中でナチス・ドイツに迫害されるユダヤ人を助け、ビザの発給を行った図Iは誰か答えなさい。

(8) 下線部⑧について、この頃空襲が激しくなると都市の子どもたちは田舎に避難したが、これを何というか答えなさい。



図I

4

以下の各資料は、ある授業で使われたものである。(1)～(7)に答えなさい。

資料1：

「後漢書」東夷伝(部分要約)
建武中元2(57)年に倭の奴国が後漢に朝貢したので、光武帝は印綬(印とそれを結びとめるひも)をおくった。…桓帝と靈帝のころ(2世紀)、倭は大いに乱れ、長い間代表者が定まらなかった。

資料2：

五月雨を あつめて早し 最上川
荒海や 佐渡によこたふ 天河
夏草や 兵どもが 夢の跡

資料3：

ゲティスバーグでの演説(部分翻訳)
…この国に神の下で自由の新しい誕生を迎えさせるために、そして、人民の人民による人民のための政治を地上から決して絶滅させないために、われわれがここで固く決意することである。

(1) 資料1について、この頃日本で使われた土器として適するものを選び、以下の1～3から選び、番号で答えなさい。



1



2



3

(2) 資料1の下線部について、この印の印影に当てはまるものを以下の選択肢1～3から選び、番号で答えなさい。



1



2



3


(3) 資料2は図Iの人物が著した『奥の細道』に収められた俳句の一部である。図Iの名前を答えなさい。

(4) 資料2の頃、武士や町人の生活を元に浮世草子を著し、人気を博した作家は誰か答えなさい。

(5) 資料3は図IIの人物がアメリカの内戦中に行った演説である。図IIの名前を答えなさい。



図I



図II

(6) 資料3の演説が行われる前、日本では日米修好通商条約が結ばれた。この条約の説明について正しいものを以下の選択肢1~4から選び、番号で答えなさい。

1. 大老の阿部正弘が中心となってアメリカとの交渉を行った。
2. 下田・函館を開港することになった。
3. アメリカ人が日本で法を犯した時、アメリカの法律で裁くことを認めた。
4. 日本はアメリカに対して、一方的に関税をかけることができた。

(7) 資料3の頃、日本では社会の混乱の中で図Ⅲのような騒ぎが起こった。これを何というか答えなさい。



図Ⅲ

5 2021年10月31日、衆議院議員選挙が行われた。(1)～(5)に答えなさい。

(1) 衆議院に当てはまるのは表の(A)・(B)どちらか答えなさい。また、表中の(C)に当てはまる数字を答えなさい。

	(A)	(B)
議員定数	465人	242人
任期	4年(解散あり)	6年(3年毎に半数改選)
選挙権	(C)歳以上	(C)歳以上
被選挙権	25歳以上	30歳以上
選挙区	小選挙区：289人 比例代表：176人	選挙区：146人 比例代表：96人

(2) 図Iの(α)に当てはまるのは通常国会・臨時国会・特別国会のどれか答えなさい。

(3) 2021年の衆議院選挙で最大多数の議席を獲得した政党名を答えなさい。また、首相に選ばれた図IIの名前を答えなさい。ただし、フルネーム・漢字で答えるものとする。

(4) 現在の与党は、公明党と一緒に内閣を組織している。こうした複数の政党で組織される政権を何というか答えなさい。

(5) 各選挙区において、議員一人あたりの当選に必要な有権者数に格差が生じて問題となっているが、この格差を何というか答えなさい。

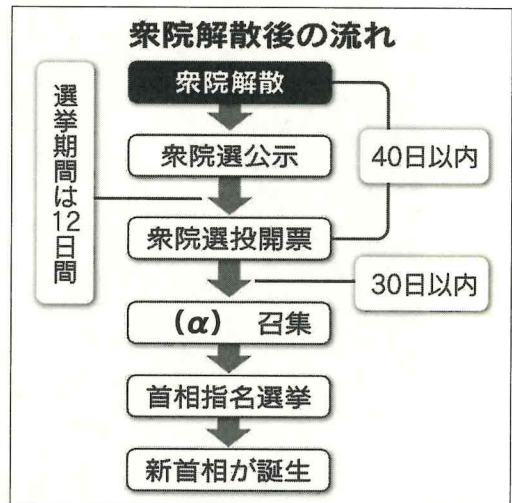


図 I



図 II

6

以下に示した日本の憲法の条文と、そこに記される権利について、(1)～(4)に答えなさい。

第一条 天皇は、日本国の(A)であり日本国民統合の(A)であつて、この地位は、主権の存する日本国民の総意に基づく

第十二条 この憲法が国民に保障する自由及び権利は、国民の不断の努力によつて、これを保持しなければならない。又、国民は、これを濫用(むやみやたらに使うこと)してはならないのであつて、常に(B)のためにこれを利用する責任を負ふ。

- (1) 現在の日本の憲法を何というか答えなさい。また、その憲法の三原則を答えなさい。
- (2) 第一条は天皇の立場と、主権者に関する条文である。(A)に当てはまる語句を答えなさい。
- (3) 現代日本において自由に物事を考え、行動することは人間らしく生きていくために欠かせない要素である。以下の各文章ア～エの中で、精神の自由に関わるものの組み合わせを1～4から選び、番号で答えなさい。

ア．奴隷的拘束・苦役からの自由
ウ．居住・移転・職業選択の自由

イ．学問の自由
エ．思想・良心の自由

1 ア・ウ


2 イ・ウ

3 ア・エ

4 イ・エ

- (4) 現代の人権は、他人の人権を侵害しない範囲で尊重される。第十二条の(B)に当てはまる、人権の限界を示す言葉を答えなさい。

7 以下の資料1～3は、ある授業でそれぞれの絵画について調べ、まとめたものである。
(1)～(3)に答えなさい。




資料1

これは古代ローマ帝国の時代、現在のローマ近郊にあった都市ポンペイに残された壁画である。時代による様式の変遷がある壁画からは、ポンペイの人々の豊かな暮らしの様子を垣間見ることができる。



資料2

これは明治期の画家、藤島武二の1902年①の作品『天平の面影』である。作者が奈良旅行の際に見た、正倉院の宝物②から着想を得て作成された。



資料3

これは19世紀前半の画家ダヴィッドの『球技場の誓い』である。球技場に集まった人々は憲法が制定され①、人としての当たり前の権利が保証される②まで決して解散しないと誓い合った。

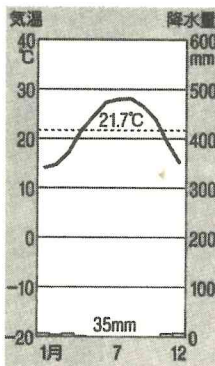
(1) 資料1について、以下の問いア～ウに答えなさい。

ア 資料1に描かれていない作物の組み合わせを以下の選択肢**1～4**から選び、番号で答えなさい。

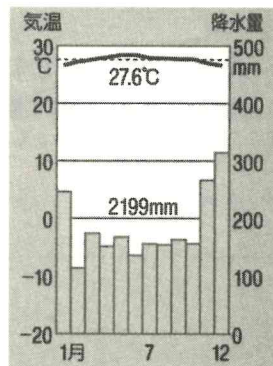
- i. ぶどう ii. トマト iii. ザクロ iv. じゃがいも

1. i・iii **2.** i・iv **3.** ii・iii **4.** ii・iv

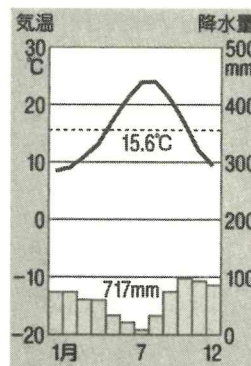
イ 以下の各国首都に関わる雨温図の中で、ローマにあたるものを選び、番号で答えなさい。



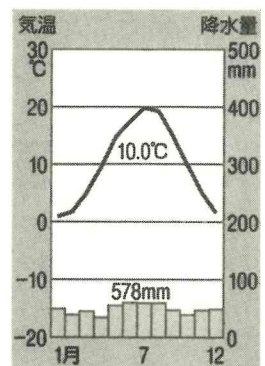
1



2



3



4

ウ 現在ローマを首都とするイタリアはEUの一員として、経済的・政治的なヨーロッパの統合を進めている。EUで使用されている共通通貨は何か答えなさい。

(2) 資料2について、以下の問いア～ウに答えなさい。

ア 下線部①について、この年日英同盟が結ばれたが、これはどこの国に対抗するためか。国名を答えなさい。

イ 明治時代には、西洋画と日本画の技法を混ぜ合わせた新たな美術が生まれた。図Iはその作品のひとつである。図Iの作者を答えなさい。

ウ 下線部②について、正倉院の宝物の奈良時代の使用者を答えなさい。



図I

(3) 資料3について、以下の問いア～イに答えなさい。

ア 下線部①について、この後制定される憲法では、「誰であろうと法的には等しく個人として尊重される」ことが示された。このことを何というか答えなさい。

イ 下線部②について、現在以下の規約が締結され、国際的な人権保障が進められている。この規約は何か答えなさい。

.....

第一部

第一条

すべての人民は、自決の権利を有する。この権利に基づき、すべての人民は、その政治的地位を自由に決定し並びにその経済的、社会的及び文化的発展を自由に追求する。

.....

第二部

第二条

1 この規約の各締約国は、その領域内にあり、かつ、その管轄の下にあるすべての個人に対し、人種、皮膚の色、性、言語、宗教、政治的意見その他の意見、国民的若しくは社会的出身、財産、出生又は他の地位等によるいかなる差別もなしにこの規約において認められる権利を尊重し及び確保することを約束する。

.....

社 会 解 答 用 紙

1	(1)	A		B	
	(2)			世界的	
	(3)			農法	
	(4)				
	(5)				

2	(1)	A		B		
	(2)	ア		イ		ウ
	(3)	橋		(a)		(b)
	(4)					
	(5)					

3	(1)		(2)		(3)	
	(4)		(5)			
	(6)		(7)		(8)	

4	(1)		(2)		(3)	
	(4)		(5)		(6)	
	(7)					

5	(1)			C	
	(2)				
	(3)			図Ⅱ	
	(4)			(5)	

6	(1)	憲法		三原則		
	(2)		(3)		(4)	

7	(1)	ア		イ		ウ
	(2)	ア		イ		ウ
	(3)	ア		イ		